



Attività per le vacanze di Natale



fascicolo di:



COMPLETA CON I NUMERI MANCANTI.



				59		
--	--	--	--	----	--	--

65		67			70	
----	--	----	--	--	----	--



76			79			
----	--	--	----	--	--	--

90		92				
----	--	----	--	--	--	--



	25				29	
--	----	--	--	--	----	--

		30		32		
--	--	----	--	----	--	--



	87				91	
--	----	--	--	--	----	--



	54	55				
--	----	----	--	--	--	--

40						
----	--	--	--	--	--	--

COMPLETA CON I NUMERI ADATTI.

$65 < \underline{\quad}$

$68 < \underline{\quad}$

$41 < \underline{\quad}$

$87 > \underline{\quad}$

$95 > \underline{\quad}$

$77 > \underline{\quad}$

$\underline{\quad} < 23$

$\underline{\quad} < 76$

$\underline{\quad} = 75$

$42 < \underline{\quad}$



$82 < \underline{\quad}$



$92 < \underline{\quad}$

$97 > \underline{\quad}$

$90 > \underline{\quad}$

$12 > \underline{\quad}$


$\underline{\quad} < 85$

$\underline{\quad} < 79$

$\underline{\quad} = 28$

LEGGI LE AFFERMAZIONI E SCRIVI SE SONO VERE (V) O FALSE (F)

$23 < 46$



$83 < 12$

$93 < 76$

$56 = 56$

$70 < 77$




$77 < 35$

$24 > 23$

$44 > 34$

$76 > 97$



$80 < 28$

RISCRIVI I NUMERI IN ORDINE CRESCENTE.




123	134	487	235	256	143	745	154	112
-----	-----	-----	-----	-----	-----	-----	-----	-----

--	--	--	--	--	--	--	--	--

787	754	547	745	322	342	634	643	344
-----	-----	-----	-----	-----	-----	-----	-----	-----

--	--	--	--	--	--	--	--	--

RISCRIVI I NUMERI IN ORDINE DECRESCENTE.



862	782	842	543	524	898	889	213	122
-----	-----	-----	-----	-----	-----	-----	-----	-----

--	--	--	--	--	--	--	--	--

321	320	231	123	322	635	611	435	328
-----	-----	-----	-----	-----	-----	-----	-----	-----

--	--	--	--	--	--	--	--	--

COLLEGA OGNI NUMERO ALLA SCOMPOSIZIONE
CORRISPONDENTE.

65

5h 3da 2u

160

3h 2u

320

1h 6da

302

6h 7da

532

2da 3h

674

5u 6da

670

6h 7u

607

6h 7da 4u

RISOLVI IN COLONNA LE OPERAZIONI. CONTROLLA I RISULTATI.

$233 + 122 = \text{----}$

$359 - 239 = \text{----}$

$365 + 198 = \text{----}$

$987 - 349 = \text{----}$

$320 + 108 = \text{----}$

$634 - 139 = \text{----}$

RIPORTO		RIPORTO							
h	da	u							

+
=

RIPORTO		RIPORTO							
h	da	u							

+
=

RIPORTO		RIPORTO							
h	da	u							

+
=

RIPORTO		RIPORTO							
h	da	u							

-
=

RIPORTO		RIPORTO							
h	da	u							

-
=

120, 355, 638, 428, 495, 563



RISOLVI IN COLONNA LE OPERAZIONI. CONTROLLA I RISULTATI.

$146 \times 4 = \text{----}$

$453 \times 6 = \text{----}$

$232 \times 3 = \text{----}$

$723 \times 8 = \text{----}$

$302 \times 6 = \text{----}$

RIPORTO	
h	da u

x
=

RIPORTO	
h	da u

x
=

RIPORTO		RIPORTO		RIPORTO	
k	h	da	u		

x
=


RIPORTO		RIPORTO		RIPORTO	
k	h	da	u		

x
=


RIPORTO		RIPORTO		RIPORTO	
k	h	da	u		

x
=

696, 1812, 2718, 5784, 584



RISOLVI I PROBLEMI.



IN UN SACCO DI REGALI CI SONO 720 CAMELLE. BABBO NATALE NE DISTRIBUISCE 185.

QUANTE CAMELLE RIMANGONO NEL SACCO?

NEL LABORATORIO DI BABBO NATALE, GLI ELFI HANNO PREPARATO 245 GIOCATTOLE AL MATTINO E 380 AL POMERIGGIO.

QUANTI GIOCATTOLE HANNO PREPARATO IN TUTTO?

BABBO NATALE HA 648 BISCOTTI DA DISTRIBUIRE IN 9 SACCHETTI UGUALI.

QUANTI BISCOTTI CONTIENE OGNI SACCHETTO?

OGNI ELFO PREPARA 8 FIOCCHI DI NEVE DECORATIVI. NEL LABORATORIO LAVORANO 25 ELFI.

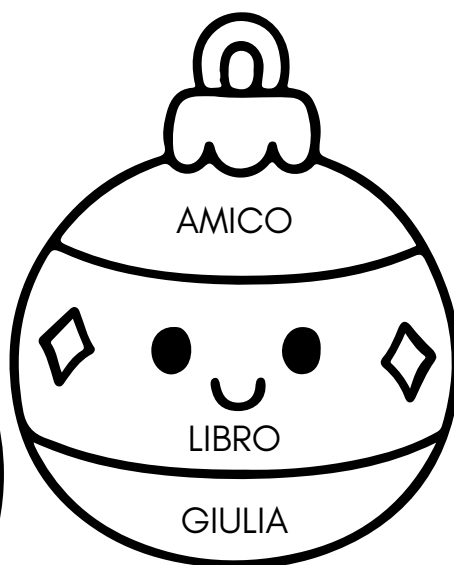

QUANTI FIOCCHI DI NEVE VENGONO CREATI IN TOTALE?

UN NEGOZIO HA RICEVUTO 500 PALLINE DI NATALE. NE VENDE 235 LA MATTINA E RICEVE UN NUOVO CARICO DI 180 PALLINE NEL POMERIGGIO.

QUANTE PALLINE CI SONO ORA NEL NEGOZIO?

I nomi comuni e propri

Colora i gli spazi: nomi comuni verde, nomi propri rosso



Scrivi il nome adatto



NOME COMUNE

NOME PROPRIO

NOME COMUNE

NOME PROPRIO

Collega ogni nome comune al corrispondente nome proprio

MESE

CITTÀ

MAESTRA

LAURA

DICEMBRE

ROMA




























Analisi grammaticale

Colora i cerchi:

nomi comuni verde

nomi propri rosso

articoli giallo

- A NATALE LA FAMIGLIA SI RIUNISCE PER STARE INSIEME.
  
- L'ALBERO DI NATALE È DECORATO CON LUCI COLORATE E
   
PALLINE.

- I BAMBINI ASPETTANO CON GIOIA L'ARRIVO DI BABBO NATALE.
  
- LA SERA DI NATALE MANGIAMO TUTTI INSIEME A TAVOLA.
   
- IN CASA RITA SENTE IL PROFUMO DEI DOLCI APPENA SFORNATI.
  
- LUCA E SUA MAMMA VANNO A COMPRARE I REGALI AL
   
NEGOZIO A MILANO.
 
- NATALE È NEL MESE DI DICEMBRE.
  

Colora i nomi propri

LUNA	PIANTA	MATTEO
COPERTA	MICIO	MATITA
MARZO	RANA	ANNA
SAN SIRO	QUADERNO	MAESTRA

Leggi e rispondi alle domande

IL NATALE DI LUCA

LUCA ASPETTA IL NATALE CON GRANDE GIOIA.

A DICEMBRE, NELLA SUA CASA, COMPAIONO LUCI COLORATE E UN GRANDE ALBERO DECORATO.

LUCA AIUTA LA SUA FAMIGLIA A PREPARARE L'ALBERO E IL PRESEPE.

LA SERA DELLA VIGILIA TUTTI SI SIEDONO A TAVOLA E MANGIANO PIATTI SPECIALI.

PRIMA DI ANDARE A DORMIRE, LUCA PENSA A BABBO NATALE E AI REGALI, MA SOPRATTUTTO È FELICE DI STARE CON LA SUA FAMIGLIA.

LA MATTINA DI NATALE SI SVEGLIA PRESTO E APRE I REGALI CON ENTUSIASMO.

DOMANDE DI COMPRENSIONE

IN QUALE MESE SI SVOLGE LA STORIA?


COSA APPARE NELLA CASA DI LUCA?

IN CHE MODO LUCA AIUTA LA SUA FAMIGLIA?

COSA FA LA FAMIGLIA LA SERA DELLA VIGILIA?

PERCHÉ LUCA È FELICE PRIMA DI ANDARE A DORMIRE?

COSA SUCCEDDE LA MATTINA DI NATALE?




Racconta il tuo Natale

PER AIUTARTI, PUOI RISPONDERE A QUESTE DOMANDE:

- CON CHI TRASCORRI IL NATALE?
- COSA FAI LA VIGILIA O IL GIORNO DI NATALE?
- CI SONO DECORAZIONI IN CASA? QUALI?
- COSA TI PIACE DI PIÙ DEL NATALE?
- COME TI SENTI DURANTE LE FESTE?

SCRIVI UN BREVE TESTO.

[illegible]